

**Universidade Estadual de Feira de Santana**

Concurso Público de Provas e Títulos  
para provimento de Cargos Técnicos Específicos

**2010**

**ANALISTA UNIVERSITÁRIO  
LICENCIATURA OU BACHARELADO  
EM GEOGRAFIA**

nome:

inscrição:



# INSTRUÇÕES

## UNIVERSIDADE ESTADUAL DE FEIRA DE SANTANA - UEFS CONCURSO PÚBLICO PARA PROVIMENTO DE CARGOS TÉCNICOS ESPECÍFICOS DA UEFS

### CADERNO DE PROVAS

Este Caderno de Provas contém 65 (sessenta e cinco) questões objetivas, com 5 (cinco) alternativas cada uma, indicadas por A, B, C, D e E, assim distribuídas:

- Língua Portuguesa – 16 questões
- Matemática e Raciocínio Lógico – 12 questões
- Noções de Administração – 10 questões
- Conhecimentos Específicos – 27 questões

### FOLHA DE RESPOSTAS

- Leia cuidadosamente cada questão e marque a resposta correta na Folha de Respostas.
- Existe APENAS UMA resposta correta para cada questão objetiva.
- Use caneta esferográfica de tinta azul ou preta, ao assinalar sua resposta na Folha de Respostas, e preencha completamente o espaço a ela destinado, sem ultrapassar os seus limites.
- Confira os dados constantes na Folha de Respostas e assine-a no espaço reservado para tal fim.
- É da sua inteira responsabilidade a marcação correta na Folha de Respostas.

MARCAÇÃO CORRETA

ATENÇÃO

Você terá 4 (quatro) horas para responder a estas Provas. O tempo mínimo de permanência do Candidato em Sala de Provas é de 2 (duas) horas.

Você só poderá levar o Caderno de Provas após decorridos 2 (duas) horas e 30 (trinta) minutos do início efetivo das provas.

Ao concluir as Provas, entregue ao Fiscal a Folha de Respostas.

Confira a sequência das páginas e das questões de seu Caderno de Provas. Se for identificado algum problema, informe-o ao Fiscal.

# ANALISTA UNIVERSITÁRIO

# Língua Portuguesa

## Questões de 1 a 16

Instrução

Para responder a essas questões, identifique APENAS UMA ÚNICA alternativa correta e marque a letra correspondente na Folha de Respostas.

### Questões 1 a 9

TEXTO:

#### Metade do caminho

Está entre os maus hábitos permanentes do Brasil a ilusão de achar que é possível conviver, sem maiores prejuízos, com a combinação com a qual tem convivido até hoje — uma geleia geral que junta a incompetência da máquina pública na execução de seus deveres, a indiferença de um eleitorado sem interesse, paciência ou informação para acompanhar o que os políticos fazem com o seu dinheiro e os vícios de um sistema político que está entre os piores do mundo. O sentimento da maioria é que não compensa esquentar a cabeça com esse vale de lágrimas, quando o dia a dia tem assuntos mais urgentes para o cidadão resolver. Mas o pouco-caso com a realidade, infelizmente, sempre cobra um preço alto. Não se trata de uma cobrança que vai ficar para o futuro, como frequentemente se imagina. O preço já está sendo pago há muito tempo e tende a ficar cada vez mais alto. Basta ver tudo que o Brasil de hoje precisa com urgência, e não tem — e tudo o que tem de sobra, e de que não precisa.

Há um bocado de esperança, diante dos avanços reais que o país tem feito, e de que, com perseverança, paciência e uma atitude mental afirmativa, dá para ir tocando as coisas; um dia, lá na frente, o grosso dos problemas estará resolvido. Existem fatos de sobra para demonstrar que o Brasil, neste momento, está muito melhor do que já foi em qualquer outra época do passado. Está melhor em questões essenciais, não em aparências, e está melhor de verdade, não porque quem diz isso é a propaganda boçal do governo — até porque boa parte desse progresso não foi feita pelas autoridades constituídas, mas apesar delas. O problema é outro. Podemos nos firmar, dentre outras conquistas, como a sétima ou a oitava maior economia do mundo. Podemos ter e ser mais uma porção de coisas, mas vamos continuar sendo um país subdesenvolvido enquanto se mantiver essa situação em que tão pouca gente, na população brasileira, tem acesso real a uma vida efetivamente melhor.

Basta pensar, durante cinco minutos, sobre certas realidades para constatar o disparate que é considerar o Brasil atual um país bem-sucedido, quando 50% da população, por exemplo, não é servida por rede de esgoto — e, principalmente, quando uma calamidade desse tamanho é tratada com a maior naturalidade do mundo pelos outros 50%, em especial os que têm obrigação de resolver o problema. Estamos avançando, é claro. Em 510 anos, já se conseguiu chegar à metade do caminho; um dia, se Deus quiser, todos estarão atendidos. Mas a única pergunta que interessa, nessa e em outras questões do mesmo tipo, é: quando? Para os quase 100 milhões de brasileiros que não têm esgoto, a resposta faz toda a diferença.

O professor Gustavo Loschpe observou, em um de seus artigos, que só 25% da população brasileira alfabetizada está em condições de entender um texto como aquele. Era apenas uma página de revista, escrita em português corrente e que deveria ser acessível a todos os que completaram os primeiros oito anos de escola. Assim, para os 75% que não conseguem entender o artigo do professor Loschpe, essa situação é um desastre. É para eles que estão reservados, no Brasil que cresce a 6% e tem "grau de investimento", os empregos com trabalho mais pesado, os piores salários e, em vez de carreiras profissionais, ocupações sem futuro algum — isso quando conseguem emprego, num mercado em que competem em desvantagem cada vez maior.

GUZZO, J. R. A metade do caminho. *Veja*, São Paulo: Abril, ed. 2164, ano 43, n. 19, p. 170, 12 maio 2010. Adaptado.

#### QUESTÃO 1

As informações constantes nesse artigo deixam sem respaldo textual a afirmativa que se faz em

- A) O fator educacional vem sendo uma pedra no caminho, a bloquear a ascensão do Brasil na escalada para seu ingresso na lista dos países progressistas.
- B) O fato de se considerar o Brasil uma nação bem-sucedida, quando se observam certas realidades relacionadas com boa parte de sua população, não deixa de ser uma asneira.
- C) A acomodação de grande parte dos brasileiros, até por questões culturais, dentre outras, tem-se constituído um entrave para que o país conquiste um lugar de real destaque no panorama internacional.
- D) O Brasil, apesar de inegáveis avanços em relação ao passado, deixa a desejar em alguns aspectos sociais de relevante importância, o que constitui empecilho para seja considerado, de fato, um país desenvolvido.
- E) Os administradores do Brasil, ao longo desses 510 anos, têm adotado uma filosofia às avessas de outros países na conquista de um lugar de destaque no panorama internacional, mas têm feito o país andar, apagando, de uma vez por todas, as marcas do subdesenvolvimento.

#### QUESTÃO 2

No texto, o articulista

- A) desculpa a população brasileira pela indiferença diante da realidade circundante.
- B) nega ao Brasil a condição de país bem-sucedido pelo abismo social nele existente.
- C) chega à conclusão de que a solução para os problemas brasileiros já está a caminho.
- D) destaca a confiança do brasileiro como mola impulsadora das conquistas do país.
- E) sinaliza que muita gente, insatisfeita com a situação em que vive, começa a se insurgir aqui e ali.

**QUESTÃO 3**

Sintetiza o ponto de vista defendido pelo articulista nesse texto o provérbio

- A) "O Sol nasce para todos".
- B) "Antes calar que mal falar".
- C) "Pela amostra se conhece a chita".
- D) "Onde está a força maior, cessa a menor".
- E) "Dizendo-se as verdades, perdem-se as amizades".

**QUESTÃO 4**

Identifique as afirmativas verdadeiras (V) e as falsas (F).

Em sua estrutura composicional, o texto apresenta

- ( ) registro de marcas características da oralidade da língua.
- ( ) desconstrução da linguagem em busca de novos sentidos para retratar melhor a realidade enfocada.
- ( ) ausência de elementos linguísticos evidenciadores da inclusão do articulista em seu próprio discurso.
- ( ) argumentação favorável à continuidade da situação em que se encontra grande parte da população do Brasil.
- ( ) presença de marcadores temporais destacando a dicotomia existente entre duas realidades: a do presente e a do passado.

A alternativa que contém a sequência correta, de cima para baixo, é a

- A) F F V F V
- B) F V F V F
- C) V F V F F
- D) V V F F V
- E) V V V V V

**QUESTÃO 5**

Traduz desejo e reverência por parte da voz enunciativa a expressão

- A) "sem maiores prejuízos" (l. 2-3).
- B) "não em aparências" (l. 26).
- C) "mas apesar delas" (l. 29).
- D) "é claro" (l. 43).
- E) "se Deus quiser" (l. 44-45).

**QUESTÃO 6**

Marque V para as afirmativas verdadeiras e F, para as demais.

Do ponto de vista semântico, é correto afirmar:

- ( ) Na expressão "entre os maus hábitos **permanentes** do Brasil" (l. 1), o vocábulo em negrito qualifica a palavra "hábitos", expressando a ideia de tempo.
- ( ) No fragmento "com a qual tem convivido até hoje" (l. 3-4), o termo "até hoje" permite a pressuposição de que podem ocorrer mudanças a partir daí.
- ( ) No trecho "em especial os que têm obrigação de resolver o problema." (l. 42-43), a locução "em especial" indica seleção, destaque.
- ( ) Em "toda a diferença." (l. 48), a palavra "a" confere ao vocábulo "toda" a ideia de totalidade.

- ( ) Em "no Brasil que cresce a 6% e tem 'grau de investimento'" (l. 57) fica evidente o tom irônico com que o autor faz referência ao crescimento do país e à confiabilidade que os outros países nele depositam.

A alternativa que contém a sequência correta, de cima para baixo, é a

- A) V V V V V
- B) V F V F V
- C) V V F F V
- D) F V F V F
- E) F F V V V

**QUESTÃO 7**

Segundo o contexto em que está inserido, **descarta-se** como possibilidade de releitura do termo transcrito a referente a

- A) "geleia geral" (l. 4) — mistura total.
- B) "esquentar a cabeça" (l. 10) — preocupar-se.
- C) "vale de lágrimas" (l. 10) — mundo sofrido.
- D) "português corrente" (l. 52) — linguagem usual.
- E) "um desastre" (l. 56) — um acidente.

**QUESTÃO 8**

Quanto aos recursos linguísticos usados no texto, a única informação **sem suporte gramatical** é a

- A) As palavras "possível" (l. 2) e "prejuízos" (l. 3) são acentuadas por razões diferentes.
- B) O vocábulo "o", em "para acompanhar o que os políticos fazem" (l. 7), tem valor pronominal e funciona, no contexto, como complemento de "acompanhar" e de "fazem", mesmo que, na segunda oração, seja representado pelo pronome que o resgata.
- C) A forma verbal "Existem" (l. 23), pode ser substituída por "Há" (l. 19), sem prejuízo de qualquer ordem gramatical, e, considerando-se os contextos, o inverso também é verdadeiro.
- D) O conector "enquanto" (l. 33) estabelece com a oração a que se liga uma relação de temporalidade.
- E) As formas verbais "observou" (l. 49) e "deveria" (l. 53) estão no singular, concordando com diferentes sujeitos simples, cujos núcleos também estão no singular.

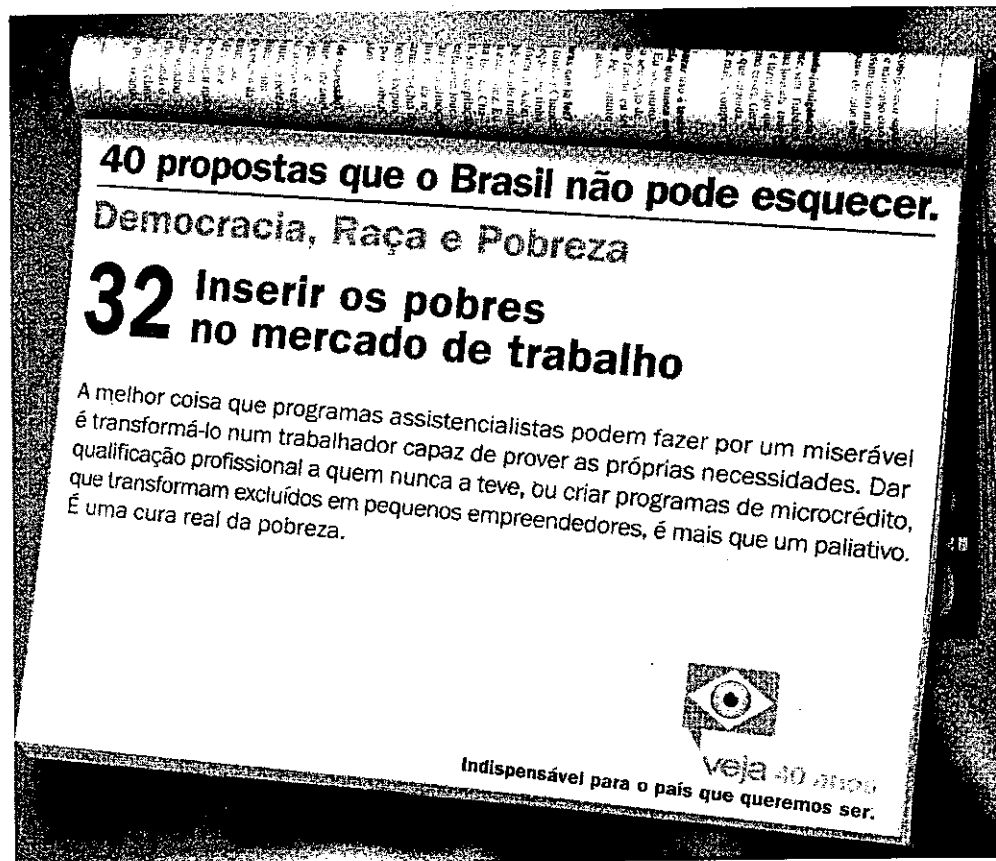
**QUESTÃO 9**

As vírgulas cuja função é, **exclusivamente**, separar circunstâncias deslocadas no contexto frasal estão presentes em

- A) "uma geleia geral que junta a incompetência da máquina pública na execução de seus deveres, a indiferença de um eleitorado sem interesse, paciência ou informação para acompanhar o que os políticos fazem com o seu dinheiro" (l. 4-7).
- B) "e de que, com perseverança, paciência e uma atitude mental afirmativa, dá para ir tocando as coisas" (l. 20-21).
- C) "um dia, lá na frente; o grosso dos problemas estará resolvido." (l. 22).
- D) "quando 50% da população, por exemplo, não é servida por rede de esgoto" (l. 38-40).
- E) "os empregos com trabalho mais pesado, os piores salários e, em vez de carreiras profissionais, ocupações sem futuro algum" (l. 57-60).

Questões de 10 a 12

TEXTO:



40 PROPOSTAS que o Brasil não pode esquecer. Veja, São Paulo: Abril, ed. 2126, ano 41, n. 23, p.121, 10 ago. 2009. Texto publicitário.

**QUESTÃO 10**

Assinale V ou F, conforme sejam as afirmativas verdadeiras ou falsas.

Essa proposta

- ( ) mostra que as formas de inclusão dos pobres passa pela educação e por ofertas de emprego.
- ( ) leva ao pressuposto de que o verdadeiro assistencialismo, em outras palavras, "não dá o peixe: ensina a pescar".
- ( ) ressignifica a palavra "cura" para imprimir no contexto o real sentido da miséria no seio de uma sociedade.
- ( ) apresenta meios viáveis de combate à pobreza e, conseqüentemente, de redução da desigualdade social existente no Brasil.
- ( ) sugere que programas assistencialistas que não oportunizam o crescimento pessoal e profissional do indivíduo não passam de meros paliativos.

A alternativa que contém a sequência correta, de cima para baixo, é a

- A) V V F F F
- B) V F V V F
- C) F V F V V
- D) F V V F V
- E) V V V V V

**QUESTÃO 11**

Retomando as ideias do texto anterior — "A metade do caminho" —, as dessa proposta podem ser consideradas, em relação àquelas, como

- A) indiscutivelmente complementares.
- B) indubitavelmente inadequadas.
- C) inteiramente contraditórias.
- D) completamente diferentes.
- E) perfeitamente iguais.

**QUESTÃO 12**

Nesse minitexto,

- A) "podem fazer" não constitui uma locução verbal, porque é possível desmembrar o infinitivo em oração com a presença de um conectivo.
- B) "o", em "transformá-lo", se substituído pelo termo que resgata no contexto, este assumirá uma nova função sintática por pertencer a outra classe de palavra.
- C) "prover as próprias necessidade" é uma oração subordinada que funciona como paciente da ação nominal.
- D) "Dar" e "criar" possuem a mesma transitividade verbal.
- E) "cura" é uma palavra formada pelo processo de derivação imprópria.

Questões 13 e 14

TEXTO:



BROWNE, Chris. O melhor de Hagar, o horrível. Porto Alegre: L&PM, 2007. v. 4, p.140. (Coleção L&PM Pocket).

**QUESTÃO 13**

A constatação a que chega o garoto, no último quadrinho, sobre mudanças culturais decorre da percepção de que

- A) a humanidade quer renovar o mundo sem se preocupar com a realidade circundante.
- B) o ser humano é contraditório por natureza, já que afirma uma coisa agora e, logo a seguir, faz outra.
- C) um povo nem sempre busca os meios corretos para promover grandes mudanças, inclusive na cultura.
- D) o agente transformador da cultura é o próprio homem e, por essa razão, o processo de mudança deve ocorrer de dentro para fora.
- E) o homem, na verdade, quer transformações que melhorem sua qualidade de vida, sem mover um dedo sequer para que isso aconteça de fato.

**QUESTÃO 14**

Sobre as formas verbais usadas no texto, é correto afirmar:

- A) "Dizem" (Quadro I) forma uma oração com o sujeito oculto.
- B) "trará" (Quadro I) apresenta-se na voz ativa, exprimindo uma ação irreal.
- C) "diz" (Quadro III) tem seu sentido complementado por um pronome e uma oração.
- D) "terá" (Quadro III) possui uma transitoriedade diferente da expressa por "Dizem" (Quadro I).
- E) *Dizer* e *ter* (Quadro I e III) pertencem ao mesmo grupo e servem de paradigmas para a conjugação dos verbos regulares.

**QUESTÃO 15**

Sobre a chamada "redação oficial", a única informação **incorreta** é a da alternativa

- A) O memorando dispensa o vocativo sendo, pois, em relação ao ofício, mais simples e mais prático.
- B) O uso de parágrafos é inadmissível no ofício, porque essa forma de comunicação não aceita espaços em branco.
- C) A carta, independente do destinatário, como toda comunicação escrita, deve preservar, por exemplo, correção, clareza e concisão, até mesmo não se tratando de correspondência comercial.
- D) Uma exposição sistemática de providências tomadas ou de serviços executados, feita por pessoas ou órgãos e dirigida a uma autoridade superior como uma prestação de contas, é denominada de relatório.
- E) A uniformidade de tratamento e, nesse sentido, a questão referente a vocativos e endereços, dentre outras características, devem ser cuidadosamente observadas na comunicação escrita de cunho burocrático.

**QUESTÃO 16**

Sobre pronomes de tratamento e colocação pronominal, marque **V** para as afirmativas verdadeiras e **F**, para as demais.

- ( ) Deverá ser empregado o tratamento Vossa Magnificência para Reitores, escrevendo-se, no endereço, a forma correspondente, ou seja, Magnífico.
- ( ) Usa-se V. Ex.<sup>a</sup> (abreviado) para Ministros e Secretários de Educação, dentre outros, como vocativo e, no que se refere ao endereço, Ex.<sup>mo</sup> Sr.
- ( ) Deve ocorrer a próclise com as negativas em geral e a ênclise, quando, por exemplo, a oração começar por verbo.
- ( ) Emprega-se a mesóclise com o futuro do presente e o futuro do pretérito, em quaisquer circunstâncias.
- ( ) Deve-se usar como vocativo Vossa Excelência (por extenso) para os membros das Casas Legislativas.

A alternativa que contém a sequência correta, de cima para baixo, é a

- A) V V F V F
- B) V V V F F
- C) F F V V F
- D) F F V F V
- E) V V V V V

\* \* \*

# Matemática e Raciocínio Lógico

## Questões de 17 a 28

Instrução

Para responder a essas questões, identifique APENAS UMA ÚNICA alternativa correta e marque a letra correspondente na Folha de Respostas.

### QUESTÃO 17

Uma empresa prestadora de serviços de telefonia móvel está com um projeto atrasado e resolveu fazer uma escala de trabalho para o recesso junino. Em cada dia trabalharão quatro funcionários, sendo apenas um analista e três técnicos. A escala será a seguinte:

- 22/06: Trabalham M, N, P e Q;
- 23/06: Trabalham M, P, R e S;
- 24/06: Trabalham M, N, R e T;
- 25/06: Trabalham M, Q, R e T.

Os dois analistas decidiram que trabalharão exatamente dois dias cada um, porém os cinco técnicos não terão esse privilégio.

Com essas informações, pode-se concluir que os analistas são

- A) N e T
- B) M e S
- C) N e S
- D) P e T
- E) Q e R

### QUESTÃO 18

Dentre as afirmações a seguir, a única que é uma contradição é

- A) Todo alegre é feliz e algum feliz não é alegre.
- B) Algum alegre não é feliz e nenhum alegre é feliz.
- C) Todo feliz é alegre e algum alegre não é feliz.
- D) Algum alegre não é feliz e algum alegre é feliz.
- E) Nenhum alegre é feliz e algum feliz é alegre.

### QUESTÃO 19

Em uma estante, há apenas livros de Matemática arrumados por assunto.

- Todos são de Lógica, exceto 23.
- Todos são de Cálculo, exceto 22.
- Todos são de Geometria, exceto 15.

Com base nessas informações, pode-se concluir que o número de livros de Matemática, nessa estante, é igual a

- A) 8
- B) 29
- C) 30
- D) 31
- E) 32

### QUESTÃO 20

Nas copiadoras modernas, basta digitar uma porcentagem para que a ampliação ou a redução correspondente seja realizada. Ao digitar 200%, por exemplo, o original terá suas dimensões duplicadas.

A melhor aproximação da porcentagem que se deve digitar na máquina, para que a área do original seja duplicada, é igual a

- A) 100%
- B) 121%
- C) 141%
- D) 150%
- E) 200%

**QUESTÃO 21**

Para falar de quantidade de chuvas, os meteorologistas usam a grandeza "precipitação pluviométrica". Dizer que em determinada região a precipitação pluviométrica foi de 10mm significa que, se houvesse uma caixa com  $1\text{m}^2$  de base, esta caixa acumularia 10 litros de água. Se choveu numa área de  $10\,000\,000\text{m}^2$ , e a precipitação foi de 30mm, o número de litros de água precipitado foi igual a

- A)  $3 \cdot 10^5$
- B)  $3 \cdot 10^6$
- C)  $3 \cdot 10^7$
- D)  $3 \cdot 10^8$
- E)  $3 \cdot 10^9$

**QUESTÃO 22**

Observe os números dispostos na tabela.

3									5	
---	--	--	--	--	--	--	--	--	---	--

As células vazias devem ser preenchidas com números naturais, de modo que a soma de três números consecutivos quaisquer seja 12.

O número que deverá ser escrito na última célula à direita é

- A) 1
- B) 2
- C) 3
- D) 4
- E) 5

**QUESTÃO 23**

Todos os habitantes do planeta Bloom possuem 3 pernas e cada veículo de transporte possui 5 rodas.

Analisando-se as proposições a seguir, para um conjunto de 97 pernas e rodas, a única alternativa correta é

- A) É possível que existam dezenove veículos nesse conjunto.
- B) Existem, no máximo, dezesseis veículos nesse conjunto.
- C) Esse conjunto pode ser composto de treze veículos e nove habitantes.
- D) Esse conjunto possui, no máximo, dezessete veículos.
- E) Nesse conjunto, existem menos habitantes do que veículos.

**QUESTÃO 24**

Considere-se a sequência dos números naturais, não nulos, múltiplos de 7, escrita sem separar os algarismos, como indicado

7142128354249...

O valor absoluto do algarismo que ocupa, nessa sequência, o 76º lugar é

- A) 1
- B) 2
- C) 3
- D) 4
- E) 5

**QUESTÃO 25**

A velocidade da correnteza de um rio é de  $2\text{km/h}$ . O tempo que um bote gasta para percorrer  $28\text{km}$  a favor da correnteza, rio abaixo, é o mesmo que o bote leva para percorrer  $20\text{km}$  contra a correnteza, rio acima.

Nessas condições, a velocidade do bote, em água tranquila, é de

- A)  $12\text{km/h}$
- B)  $14\text{km/h}$
- C)  $15\text{km/h}$
- D)  $16\text{km/h}$
- E)  $18\text{km/h}$



**QUESTÃO 26**

Segundo a Agência Nacional do Petróleo (ANP), em 2006 foram produzidos aproximadamente 17,76 bilhões de litros de álcool (anidro/hidratado); em 2007, a produção foi de 22,55 bilhões de litros. Mantendo-se a mesma taxa de crescimento na produção, a projeção para a produção de álcool, em bilhões de litros, em 2010 é de

- A) 32,13
- B) 33,25
- C) 34,28
- D) 35,46
- E) 36,92

**QUESTÃO 27**

Observe a tirinha.



Considerando-se que a probabilidade de o Recruta Zero estar envolvido em algum evento que sai errado é de 95% e que o Sargento Tainha realmente calcule a probabilidade de o Recruta estar envolvido em tal evento, pode-se concluir que a probabilidade de o Recruta estar envolvido em, exatamente, quatro de cada cinco acidentes é de

- A)  $\frac{1}{4} \left(\frac{19}{20}\right)^4$
- B)  $\frac{3}{4} \left(\frac{19}{20}\right)^6$
- C)  $\frac{1}{4} \left(\frac{39}{40}\right)^4$
- D)  $\frac{3}{4} \left(\frac{39}{40}\right)^4$
- E)  $\frac{1}{4} \left(\frac{49}{50}\right)^4$

**QUESTÃO 28**

O calendário tem sido um problema muito discutido no futebol brasileiro. Como há muitos campeonatos envolvendo as equipes, o número de jogos se torna excessivo, desgastando os jogadores e tirando o interesse do público. Por isso, para definir o número de participantes do campeonato brasileiro, o maior do país, os dirigentes devem contar o número de partidas que serão disputadas, tentando não sobrecarregar ainda mais o campeonato. Considerando-se esse fato, o número de participantes caiu de 24, em 2004, para 22, em 2005, e de 22 para 20, em 2006. Esse número permanece o mesmo desde então.

Sabendo-se que cada equipe enfrentará todas as outras duas vezes, o total de jogos que serão realizados no campeonato de 2010, em relação aos que foram realizados em 2004, diminuiu em

- A) 154
- B) 172
- C) 196
- D) 204
- E) 210

\* \* \*

# Tópicos de Administração Pública, de Direito Administrativo, do Estatuto dos Servidores Públicos Civis do Estado da Bahia e do Plano de Carreira, Cargos e Salários das Universidades Estaduais da Bahia

## Questões de 29 a 38

Instrução

Para responder a essas questões, identifique APENAS UMA ÚNICA alternativa correta e marque a letra correspondente na Folha de Respostas.

### QUESTÃO 29

Acerca das afirmativas sobre os temas Organização do Estado, da Administração Pública, e do Regime Jurídico Administrativo, marque com V as verdadeiras e com F, as falsas.

- ( ) A Administração Pública pode submeter-se ao regime jurídico de direito privado ou ao regime jurídico de direito público. A opção por um regime ou outro é feita, em regra, pela Constituição ou pela lei.
- ( ) Administração pública é a atividade desenvolvida pelo Estado ou seus delegados, sob o regime de Direito Público, destinada a atender, de modo direto e imediato, a necessidades concretas da coletividade.
- ( ) Nos termos da Constituição Federal de 1988, após definida a área de atuação, somente por lei complementar, de iniciativa do Poder Executivo, poderá ser criada autarquia, empresa pública, sociedade de economia mista e fundação.
- ( ) A organização político-administrativa da República Federativa do Brasil compreende a União, os estados, o Distrito Federal e os municípios, todos autônomos, nos termos da Constituição Federal de 1988.

A alternativa que indica a sequência correta, de cima para baixo, é a

- A) F F V F
- B) V V F V
- C) F F F V
- D) V V F F
- E) F V V V

### QUESTÃO 30

As reestruturações e modernizações ocorridas nas organizações públicas podem ser definidas como o conjunto de modificações amplas e profundas que estão acontecendo através da introdução de uma nova cultura e de técnicas gerenciais nos moldes do modelo de administração gerencial, em busca de melhor desempenho e eficiência.

Sobre modelos teóricos de administração pública, processo de modernização da administração pública e a nova gestão pública, é correto afirmar:

- A) O enfoque da administração patrimonialista é na eficiência da administração pública, ou seja, na necessidade de reduzir custos e aumentar a qualidade dos serviços, tendo o cidadão como beneficiário, e torna-se então essencial.
- B) A administração pública patrimonialista surge na segunda metade do século XIX, tendo como princípios orientadores a profissionalização, a impessoalidade e o formalismo.
- C) Na administração pública burocrática, a eficiência e a qualidade sempre foram consideradas como valores principais na prestação de serviços pelo setor público, em que não se estabelece a necessidade de controle, em sua essência, como a garantia do poder do Estado, limitando-se este, exclusivamente, a manter a ordem e administrar a justiça, a garantir os contratos e a propriedade.
- D) Dentro do modelo da administração pública gerencial, a eficiência e a qualidade vêm sendo consideradas como valores principais na prestação de serviços pelo setor público. Esse modelo é norteado pelos seguintes princípios: flexibilidade, criatividade, multiplicidade, qualidade, participação e controle de resultados, descentralização e horizontalização das estruturas e a organização em rede.

- E) A administração pública gerencial constitui um avanço e até um certo ponto um rompimento com a administração pública paternalista, modelo de gestão em que está apoiada, e da qual conserva, de forma inflexível, os seus princípios fundamentais, e assim os gerentes passam a ter que assumir novas responsabilidades e enfrentar desafios diversos, bem como reformular toda uma lógica estabelecida.

### QUESTÃO 31

Conceitua-se poderes e deveres do administrador público como os expressos em lei, os impostos pela moral administrativa e os exigidos pelo interesse da coletividade.

Sobre Poder-Dever de agir, é incorreto afirmar:

- A) O poder tem para o agente público o significado de dever para com a comunidade e para com os indivíduos, no sentido de que quem o detém está sempre na obrigação de exercitá-lo.
- B) Esse poder é insuscetível de renúncia pelo seu titular.
- C) Se para o particular o poder de agir é uma faculdade, para o administrador público é uma obrigação de atuar, desde que se apresente o ensejo de exercitá-lo em benefício da comunidade.
- D) É decorrência natural da administração, previsto na Constituição, Art. 37 - XIX, como encargo de gestão de bens e interesses alheios.
- E) A omissão da autoridade ou o silêncio da Administração, quando deva agir ou manifestar-se, gera responsabilidade para o agente omissor e autoriza a obtenção do ato omitido por via judicial.

### QUESTÃO 32

Em conformidade com a literatura disponível, não basta dizer que o Direito Administrativo é o ramo do direito relativo à administração Pública, sem definir o que esta significa.

Partindo-se desse princípio, conceitua-se Direito Administrativo como

- A) o ramo do direito público que tem por objeto os órgãos, agentes e pessoas jurídicas administrativas que integram a Administração Pública, a atividade jurídica não contenciosa que exerce e os bens de que se utilizam para a consecução de seus fins, de natureza pública.
- B) o ramo do direito que tem por objeto os órgãos e agentes que integram a Administração, a atividade jurídica que exerce e os bens de que se utilizam para a consecução de seus fins, de natureza pública, bem como a comunidade beneficiária dos serviços.
- C) a aplicação do conjunto harmônico de leis que regem os órgãos e as atividades públicas, tendentes a realizar concreta e imediatamente, os fins desejados pelo cidadão.
- D) um ramo do Direito Público apto a expor, interpretar e sistematizar os princípios e normas fundamentais do Estado.
- E) o ato de produção jurídica primário, porque fundado única e diretamente no poder soberano, no qual constitui exercício direto e primário; mediante a lei, o Estado regula relações.



# Conhecimentos Específicos Licenciatura ou Bacharelado em Geografia

## Questões de 39 a 65

Instrução

Para responder a essas questões, identifique APENAS UMA ÚNICA alternativa correta e marque a letra correspondente na Folha de Respostas.

### Questões 39 e 40

"No processo de produção de um espaço, para alguns e não para todos, a sociedade, escudada no poder político do Estado, organiza o território visando utilizá-lo de determinadas formas e com determinados fins".

#### QUESTÃO 39

Considerando-se o texto e os conhecimentos sobre o processo histórico e geográfico da formação territorial do Brasil, no Período Colonial, pode-se afirmar:


- A) O Brasil, ao ser incorporado pelo império português, teve seus espaços geográficos organizados dentro dos moldes das necessidades e interesses do nascente capitalismo concorrencial.
- B) Os territórios indígenas foram cedendo lugar para a formação de um espaço geográfico organizado para a produção de valores de troca, subordinados à acumulação primitiva do capital.
- C) Os espaços geográficos produzidos e organizados segundo arquipélagos econômicos demonstraram, ao mesmo tempo, uma profunda integração interna e uma efetiva articulação com o espaço geográfico metropolitano.
- D) A agroindústria da cana-de-açúcar determinou a formação e a organização da sociedade, no espaço nordestino, com base na pequena e média propriedade rural, voltada para o mercado externo, característica que ainda persiste na economia brasileira.
- E) A mineração, no processo de formação do espaço brasileiro, após a assinatura do Alvará de 1785 e do rompimento do Tratado de Methuen, tornou-se o principal agente urbanizador e de interiorização do povoamento luso-afro-brasileiro da época.

#### QUESTÃO 40

As informações do texto e os conhecimentos acerca da dimensão política da organização do território brasileiro permitem afirmar:

- A) O território brasileiro organizado nos diversos moldes de produção, no decorrer da sua história, sempre teve produção, apropriação e usufruto determinados por relações de poder.
- B) A exceção do Planalto Ocidental Paulista, que se especializou na monocultura cafeeira, em vista da forte articulação e inserção entre a periferia e os centros brasileiros, o desenvolvimento mundial do capitalismo e sua divisão internacional do trabalho conduziram a organização do espaço cafeeiro no país.
- C) O espaço urbano-industrial, até a década de 30 do século XX, foi organizado no sentido de atender à vigência da nova ordem social imposta pela classe operária, o que resultou em um espaço descentralizado, influenciando decisivamente na organização do espaço geográfico do país.
- D) A política de organização territorial, durante o regime militar, conduziu a uma reordenação do espaço agrário promovida por assentamentos de reforma agrária e pela redução de êxodo rural.
- E) Os polos tecnológicos brasileiros exercem, dentre outras funções, a organização do espaço geográfico, visto que correspondem à concentração espacial de instituições de ensino e de pesquisa, e de empresas envolvidas no estudo e aplicações de novas tecnologias, em médias e grandes cidades.

#### QUESTÃO 41



Considerando-se a charge e os conhecimentos sobre a questão agrária, no Brasil, é correto afirmar:

- A) O Estatuto do Trabalhador Rural, a mais concreta conquista dos empregados dos latifúndios, proporcionou, além de garantias trabalhistas, a certeza de empregos permanentes e de ascensão social, que foram derrubadas pelos governos militares, situação que se mantém até os dias atuais.
- B) A Lei de Terras, que modificou os critérios de acesso à terra no país, foi um capítulo a mais no processo de reforma agrária, elaborada com o objetivo de reafirmar a pequena propriedade rural, permitindo, dessa forma, o acesso à terra pelos despossuídos.
- C) Os problemas enfrentados pelo processo de reforma agrária têm se agravado, ainda mais, em função da crescente entrada das novas tecnologias no processo produtivo agrícola e da forte capitalização das relações no campo, que são acompanhadas pela incorporação de novas terras aos latifúndios.
- D) A distorção da estrutura fundiária tem aumentado, em decorrência das peregrinações do MST, com invasões ilegais, que evidenciam o descaso aos latifundiários e às questões agrárias.
- E) O atual governo federal tem proporcionado o acesso à terra por meio de um grande número de assentamentos de reforma agrária, em todo o território nacional, contribuindo, dessa forma, para uma mudança significativa na estrutura fundiária e no percentual de exclusão social.

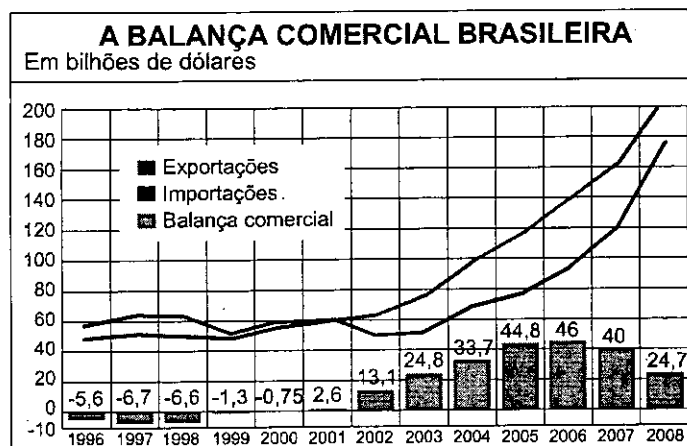
#### QUESTÃO 42

Os conhecimentos em relação às tendências da produção agrícola, no Brasil, apontam para

- A) a expansão da agricultura de grãos, sobretudo da soja e do milho, e a agricultura do algodão, no cerrado da Região Centro-Oeste, o que reforça ainda mais a concentração de terras na região marcada pela pecuária ultraextensiva.
- B) a expansão do agronegócio na Região Sul, promovendo mudanças estruturais na distribuição de terras e apresentando a melhor equidade do país, mesmo que já predominem o sistema de plantation de soja, de milho e de uva.
- C) a redução dos impactos ambientais promovida pelas atividades agropecuárias, principalmente na Região Norte, com a diminuição da área total das propriedades agrícolas, que implica o aumento, dentro delas, de áreas com matas e florestas.
- D) o crescimento da produção de cana-de-açúcar, principalmente nas regiões Nordeste e Sudeste, que se viram forçadas, em função do atual status de commodity internacional adquirido pelo etanol, a implantar o cultivo em pequenas e médias propriedades familiares.
- E) o crescente uso de agrotóxicos, que coloca o Brasil na posição de maior consumidor mundial, sem prejuízo para qualidade dos alimentos, o que justifica a contínua demanda pelos produtos agrícolas brasileiros, dentro e fora do país.



**QUESTÃO 48**



Tendo por base a análise do gráfico e da tabela os conhecimentos relativos ao desempenho do comércio externo brasileiro, na última década, identifique as afirmativas verdadeiras.

- O desempenho do comércio, em 2008, reflete a desaceleração da economia global, aliada à queda da produção e da exportação de produtos industriais brasileiros.
- O crescimento das exportações, em 2008, superou o das importações, que tiveram um avanço, em comparação com o ano anterior.
- A soma das exportações e das importações da China, em 2008, indica que esse país passou a ser o maior parceiro do Brasil, depois dos Estados Unidos.
- A alta nas exportações, após a valorização do real, justifica a manutenção do superávit da balança comercial.

A alternativa que indica **todas** as afirmativas verdadeiras é a

- I e II
- II e III
- III e IV
- I, II, IV
- I, III, IV

**QUESTÃO 49**

O processo de urbanização brasileira está vinculado às transformações sociais nos espaços rurais, que vêm mobilizando a população e incorporando-a na economia urbana.

Sobre o processo de urbanização brasileira, sua dinâmica e sua complexidade, pode-se afirmar:

- As metrópoles se caracterizam por padrões espaciais antagonísticos, gerados, exclusivamente, pela horizontalização dos sítios urbanos.
- A formação das regiões metropolitanas está diretamente relacionada ao fenômeno de integração dos mercados, promovido pelo processo de globalização.
- A urbanização acelerada ocorreu no contexto do rápido crescimento natural da população, conduzindo ao recente processo de exclusão social.
- As políticas espaciais explícitas e os vultuosos investimentos deram respaldo à urbanização brasileira como estratégia de desenvolvimento territorial.
- O desenvolvimento das cidades brasileiras seguiu planos urbanísticos movidos por interesses imobiliários ou de outra natureza, gerando o aumento da pobreza e da violência.

**QUESTÃO 50**

Com base no conhecimento geográfico, o conceito de região pode ser entendido como

- espaço que possui características dominantes, naturais e humanas homogêneas e diferentes daquelas situadas à sua volta.
- espaço trabalhado, modificado ou em transformação pelo homem.
- centro delimitado, controlado e apropriado por grupos sociais.
- rede socioespacial de dominação sobre cidade.
- rede que se instala em um espaço polarizado.

**QUESTÃO 51**

Com base nos conhecimentos sobre as desigualdades regionais no país, identifique as afirmativas verdadeiras.

- A política de concentração da atividade econômica e industrial, apoiada na ideia de se criar um grande polo de desenvolvimento, aprofundou os desequilíbrios e as desigualdades regionais já existentes no país.
- O território brasileiro foi remodelado a partir de importantes acréscimos de ciência e da tecnologia, cuja difusão é heterogênea vem contribuindo para as novas diferenciações regionais.
- O processo de desconcentração das atividades econômicas, aliado às políticas de interiorização do espaço brasileiro, concorre para uma menor inserção da Região Nordeste na economia nacional.
- O amplo processo de dominação, controle e hegemonização do espaço nacional pelas grandes corporações transnacionais, é marcante para o acirramento das diferenças regionais.

A alternativa que indica **todas** as afirmativas verdadeiras é a

- I e II.
- I e III.
- II e IV.
- I, II e III.
- I, II e IV.

**QUESTÃO 52**


Composição da população residente em cada região, por região de nascimento, em 2007					
Regiões de nascimento	Distribuição relativa da população residente, por regiões de residência atual (%)				
	Norte	Nordeste	Sudeste	Sul	Centro-Oeste
Norte	83,0	0,4	0,3	0,2	2,2
Nordeste	10,1	97,2	8,7	1,1	12,3
Sudeste	3,0	1,9	87,8	3,9	10,5
Sul	1,7	0,2	2,0	94,0	5,0
Centro-Oeste	2,1	0,3	0,6	0,4	69,7
País estrangeiro	0,1	0,0	0,6	0,4	0,3

Fonte: Pnad 2007, IBGE, Ipea

A análise da tabela, associada aos conhecimentos relacionados à dinâmica territorial brasileira, permite afirmar:

- O Norte é a região que apresentou o maior equilíbrio entre os fluxos migratórios.
- A Região Centro-Oeste apresentou saldo migratório negativo, pois 30,3% de sua população reside em outras regiões do país.
- A maior leva de sulinos dirigiu-se para o Sudeste, devido à maior proximidade e diversidade de serviços.
- A Região Sudeste possuía o segundo maior percentual de emigração e, ainda hoje, absorve em números absolutos, a maior quantidade de migrantes vindos de outros estados.
- A distribuição relativa da população residente apontou o Nordeste como a região de maior grau de retenção populacional, fato decorrente da atual migração.

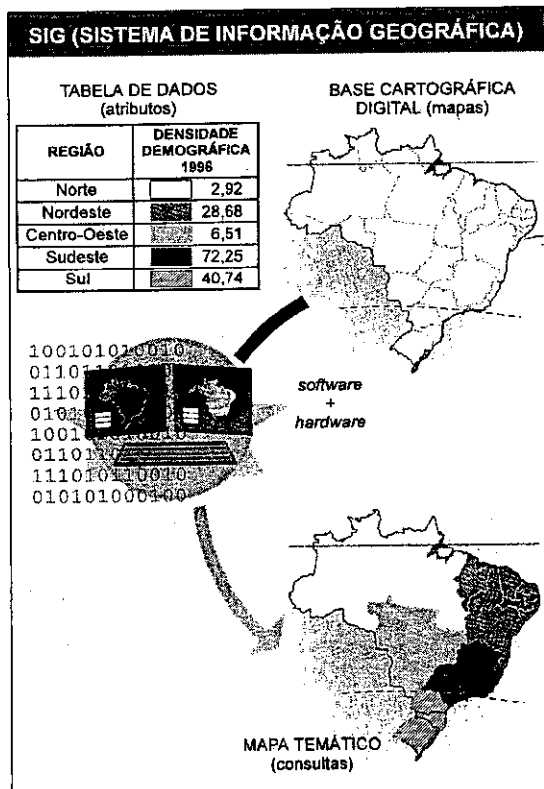
**QUESTÃO 53**



Tendo-se por base o conhecimento sobre o processo de industrialização, no Brasil, pode-se afirmar:

- A) A industrialização tardia colocou o país em situação de subordinação econômica em relação às potências industrializadas, até a introdução da indústria de base, no governo Vargas.
- B) O crescimento industrial, ocorrido a partir do Plano de Metas, mudou a configuração espacial das indústrias, que passaram a se concentrar no Sudeste, especialmente no Estado de São Paulo.
- C) O processo de industrialização brasileira sempre se estruturou com base na indústria de bens de consumo não duráveis, que apresentou crescimento acima da média, a partir da década de 50, do século XX, com a entrada do capital estrangeiro no país.
- D) Os anos do "milagre brasileiro" foram marcados por constantes greves de operários das indústrias, por melhores condições salariais e de trabalho, visto que a produção e as exportações do setor elevaram sua participação no PIB nacional, superando os demais setores da economia.
- E) O processo de privatização das indústrias de base, como a Companhia Siderúrgica Nacional e a Empresa Brasileira de Telecomunicações, entre outras, marcou década de 90 do século passado como um instrumento indispensável para o país conseguir novos empréstimos junto às instituições financeiras internacionais.

**QUESTÃO 54**



A partir da análise da ilustração, que se refere ao Sistema de Informação Geográfica, marque com V as afirmativas verdadeiras e com F, as falsas.

- ( ) Trata-se de uma tecnologia cuja multiplicidade de usos e visões possíveis apontam para uma perspectiva interdisciplinar de sua utilização, e o país que a domina conta com um importante ferramental na tomada de decisões.
- ( ) Permite visualizar dados geograficamente referenciados, embora a manipulação de informações espaciais só é possível quando o programa permite o estabelecimento da relação entre o banco de dados e o mapa digital.
- ( ) É um sistema computacional do geoprocessamento, em que os componentes se relacionam de forma hierárquica, e as informações devem conter a localização geográfica definitiva, através de coordenadas.
- ( ) Processa dados de natureza exclusivamente geográfica, por estar associada apenas à localização de uma entidade na superfície terrestre.
- ( ) Permite ao usuário consultar grande volume de dados espaciais, com rapidez, e atualizar os atributos com frequência, além de armazenar e analisar as informações espaciais.

A alternativa que indica **todas** as afirmativas verdadeiras é a

- A) V F F V V
- B) F V V F V
- C) F F V V F
- D) V V F F V
- E) V F V F V

**QUESTÃO 55**

A análise de dados geográficos corresponde ao estudo quantitativo de fenômenos possíveis de ser localizados no espaço.

Sobre as etapas desse processo, pode-se afirmar que a

- A) manipulação corresponde aos processos de navegação em um banco de dados espaciais, realizando consultas e usando mapas cloropletros.
- B) seleção envolve todas as funções que criam dados geográficos, utilizando álgebra de mapas em geoprocessamento.
- C) visualização corresponde à utilização de métodos confirmatórios, ampliando a capacidade de análise e de correções, e de sugerir a existência de instabilidades espaciais.
- D) modelagem é a apresentação dos atributos estudados por área, verificando a influência e o comportamento que cada um dos eventos tem sobre os outros.
- E) análise exploratória permite descrever e visualizar distorções espaciais, descobrir padrões de associação espacial e identificar observações outliers.

**Questões 56 e 57**

Os dados da tabela se referem às medidas tomadas em uma amostra de 10 crianças.

Crianças	1	2	3	4	5	6	7	8	9	10
Peso	25,0	25,0	22,9	20,1	18,0	20,1	21,3	17,8	21,1	19,6
Altura	104	105	103	105	100	104	100	91	102	99

**QUESTÃO 56**

A partir da análise das características avaliadas na tabela, pode-se afirmar que o desvio padrão da altura e a mediana do peso se apresentam na ordem indicada pela alternativa

- A) 4,2177cm e 21,2kg
- B) 3,1147cm e 22,1kg
- C) 1,7636cm e 20,6kg
- D) 3,1147cm e 21,2kg
- E) 4,2177cm e 20,6kg

**QUESTÃO 57**

A observação da tabela permite afirmar que a média do peso e o coeficiente de variação da altura correspondem, respectivamente, a

- A) 23,43kg e 17,7889cm<sup>2</sup>.
- B) 18,58kg e 133,38cm.
- C) 21,09kg e 1,3338cm.
- D) 23,43kg e 17,7889cm.
- E) 21,09kg e 13,338cm<sup>2</sup>.

**QUESTÃO 58**

Os números índices são indicadores de comportamento e tendência de variáveis componentes de um fenômeno, embora não se constituam medida alguma.

Sobre os números índices, é correto afirmar:

- A) São indicados na forma percentual por base cem e por convenção índice e dimensional, e apresentam três dígitos com sinal indicativo dessas condições.
- B) Correspondem a uma metodologia estatística utilizada para comparar qualidade e quantidade de evolução de variáveis complexas, através do tempo.
- C) Caracterizam-se por serem um instrumento de medidas estatísticas frequentemente usados para comparar variáveis econômicas, relacionadas entre si.
- D) Constituem importante indicador no índice de preços, pois refletem o aumento de preços de conjuntos de bens e de serviços entre momentos no tempo.
- E) Aplicados em estatística, economia e administração, são sinônimos de variação absoluta na variável de interesse, ao longo do tempo e em diferentes lugares.

**QUESTÃO 59**

A inserção do Brasil na economia mundial se faz de forma multifacetária.

Considerando-se a informação e os conhecimentos sobre o Brasil na economia globalizada, é correto afirmar:

- A) A inserção do Brasil no comércio mundial, apesar de algum progresso, ainda segue o padrão de produtos homogêneos e intensivos recursos naturais.
- B) Na área de recursos humanos, no que se refere à economia do conhecimento, o país tem alcançado destaque mundial, com as exportações de cérebros.
- C) O repasse de tecnologia, o endividamento interno e externo e os escassos recursos financeiros para pesquisa barraram a inserção do país na Terceira Revolução Industrial, mantendo-o na tecnologia clássica.
- D) O Mercosul surgiu como uma estratégia brasileira de inserção na economia globalizada, visando ao fortalecimento de sua influência no contexto internacional.
- E) A economia saudável brasileira colocou o Estado em posição de destaque na nova periferia mundial, constituída pelo grupo chamado BRIC, aumentando sua representatividade na economia mundial.

**QUESTÃO 60**

A cadeia produtiva se distribui por vários pontos do país, de acordo com as conveniências econômicas financeiras das corporações empresariais.

A partir dessa informação, pode-se afirmar que o processo de desconcentração industrial brasileiro

- A) reforça as relações trabalhistas, com garantias salariais adequadas ao processo de terceirização do trabalho.
- B) resulta da adoção de diretrizes econômicas neoliberais, centradas na redução de custos e no aumento da competitividade.

- C) se caracteriza pela distribuição do parque fabril fora da metrópole, cuja tendência remete à especialização do comércio e dos serviços.
- D) aumenta o desemprego conjuntural pela falta de mão de obra especializada para os setores que envolvem maior conhecimento científico e tecnológico.
- E) decorre da renúncia fiscal promovida pelo governo federal com a finalidade de aumentar a concorrência e garantir lucros para União.

**QUESTÃO 61**

A legislação ambiental brasileira é considerada bastante avançada e bem elaborada, no que diz respeito ao objetivo proposto, porém as condições e os meios de sua aplicação se apresentam muito limitados.

Uma das possíveis causas dessas limitações é a

- A) falta de capacitação técnica e gerencial dos dirigentes dos órgãos ambientais para implantação das estratégias e instrumentos propostos pela política ambiental.
- B) necessidade de adoção de estratégias mais abrangentes a nível local e regional, que dê suporte a um modelo de gerenciamento ambiental mais centralizado.
- C) inadequação do atual quadro do Ministério de Habitação, Urbanismo e Meio Ambiente, que conduz o planejamento e a gestão ambiental com uma racionalidade corporativa e limitada.
- D) cultura política vigente, aparelhada apenas para garantir a transparência do processo decisório, ocultando a explicitação dos critérios de análise.
- E) compatibilidade entre os objetivos das políticas ambientais e as estratégias da economia ambiental, que consideram a gestão do meio ambiente conflitante, em relação aos objetivos econômicos mais imediatos.

**QUESTÃO 62**

O projeto de delineamento macroecológico do território brasileiro, através de amostras do solo, estudou características, como textura, fertilidade, profundidade, cor, drenagem, dentre outras, relacionadas ao tipo climático, vegetação e relevo.

Considerando-se as informações do texto e os conhecimentos referentes ao delineamento macroecológico do território brasileiro, pode-se afirmar:

- A) O mapa do estudo foi elaborado na escala de 1:5000000, o que estabelece uma generalização para os 500 quilômetros considerados, podendo existir tipos de solo diferentes nesse intervalo.
- B) O território brasileiro, dividido em quatro zonas de vocação e uso do solo, apresenta o maior percentual de terras na zona de aptidão extrativa, o que justifica a proposta de uma associação com a pecuária.
- C) As zonas de prevenção, cuja formação vegetal é típica de florestas pluviais, apresentam um desenvolvimento de culturas perenes, com o objetivo de diminuir os impactos ambientais, incluindo a lixiviação do solo.
- D) O projeto representa uma grande conquista para o planejamento racional do uso do solo no país, visto que pode detectar a vocação agropecuária do solo, fornecendo, inclusive, subsídios para a manutenção do equilíbrio ecológico e da preservação ambiental.
- E) As terras férteis do país se localizam, em sua maior extensão, na Amazônia, correspondendo às áreas de preservação e de lavoura, essas últimas alojando várias culturas comerciais, dentre elas a soja.



**QUESTÃO 63**

Embora o Brasil já possua instâncias e regulamentações federais para as áreas urbanas, a aceleração do processo de urbanização levou a uma maior mobilidade por parte do governo federal, que criou um capítulo na Constituição de 1988 dedicado a políticas urbanas, além de sugerir um Movimento Nacional pela reforma urbana no país. Em 1995, criou-se uma Secretaria com status ministerial e decretou-se a Lei nº 10257, que instituiu o Estatuto das Cidades, em 2001.

Sobre a lei em questão, pode-se afirmar:

- A) Inviabiliza a participação da população na formulação, execução e acompanhamento de planos, programas e projetos de desenvolvimento urbano.
- B) Determina competência exclusiva dos municípios em legislar sobre normas gerais de direito urbanístico e instituir diretrizes para o desenvolvimento urbano.
- C) Estabelece a exigência de que todas as prefeituras devem elaborar um plano diretor e determina que esse seja aberto à discussão prévia com a sociedade e votada na Câmara Municipal.
- D) Permite os focos de loteamento clandestino com lotes maior de cinco mil metros, como determinação do plano diretor de desenvolvimento integrado.
- E) Transfere para os estados a responsabilidade de denominar estradas e ruas dos municípios e numerar residência, de acordo com a lei vigente no país.

**QUESTÃO 64**

A partir dos conhecimentos sobre crescimento e estrutura etária da população brasileira, pode-se concluir que

- A) a revolução tecnológica constitui fator desencadeador para o aumento da longevidade, expressa na base da pirâmide etária.
- B) o aumento da mortalidade na faixa etária de 0 a 19 anos, implica o maior número de idosos no país e o aumento dos investimentos demográficos.
- C) a população está envelhecendo, fato que decorre da associação entre a queda da fecundidade e a crescente expectativa de vida.
- D) a queda da taxa de fecundidade implica a ascensão socioeconômica e a inclusão social no mercado de trabalho.
- E) a população brasileira está completando a transição demográfica, motivada pela mudança no perfil de idades, resultando na forma mais triangular da pirâmide de idades.

**QUESTÃO 65**

A pirâmide etária corresponde a um

- A) histograma, composto por retângulos justapostos, em que a base de cada um deles corresponde ao intervalo de classes e à altura respectiva frequência.
- B) diagrama de barras, ilustrando comparações entre itens individuais, de modo a garantir a proporcionalidade entre as áreas do retângulo e os dados estatísticos.
- C) gráfico de colunas agrupadas, comparando valores entre categorias, que são organizadas ao longo do eixo horizontal, e os valores no eixo vertical.
- D) gráfico de barras empilhadas, exibidos em retângulos horizontais com a mesma base, e as alturas proporcionais aos respectivos dados, mostrando a relação de cada item com o todo.
- E) gráfico de colunas, organizado verticalmente, demonstrando as alterações em período de tempo e comparações entre os itens.

**Fontes das ilustrações****Questão 41**

LATUFF. O MST e suas armas... Disponível em: <<http://www.midiaindependente.org/pt/blue/2003/07/259755.shtml>>. Acesso em: 26 maio 2010.

**Questões 43 e 44**

COELHO, Marcos de A.; TERRA, Lygia. **Geografia geral e do Brasil**. São Paulo: Moderna., 2003. p. 192.

**Questão 48**

CRISE ATINGE exportações brasileiras. **Atualidades e vestibular+ENEM**. São Paulo: Abril, ed. 10, 2010, p. 153.

**Questão 52**

PERDE E ganha da migração \_\_\_\_\_, p. 174.

**Questão 53**

AMARAL Tarsila do. Operárias. Disponível em: <[http://www.google.com.br/images?hl=pt-BR&rlz=&q=oper%C3%A1rios+tarsila+do+amaral&um=1&ie=UTF-8&source=univ&ei=IGoATPbCAsmQuAfl1\\_X2DQ&sa=X&oi=image\\_result\\_group&ct=title&resnum=1&ved=0CCIQsAQwAA](http://www.google.com.br/images?hl=pt-BR&rlz=&q=oper%C3%A1rios+tarsila+do+amaral&um=1&ie=UTF-8&source=univ&ei=IGoATPbCAsmQuAfl1_X2DQ&sa=X&oi=image_result_group&ct=title&resnum=1&ved=0CCIQsAQwAA)>. Acesso em: 28 maio 2010. Acesso em: 26 maio 2010.

**Questão 54**

MOREIRA, José Carlos; SENE, Eustáquio. **Geografia para o ensino médio**. São Paulo: Scipione, 2003, p. 133.

\* \* \* \* \*

Reservados todos os direitos. É proibida a publicação ou a reprodução total ou parcial deste documento, sob quaisquer formas ou sob quaisquer meios, sem permissão expressa da CONSULTEC.

